


Сколько весит, если?



= 6



= 8

Реши ребус

Внимательно посмотри на ребус и догадайся сколько стоят угощения для белки.

Ответ:

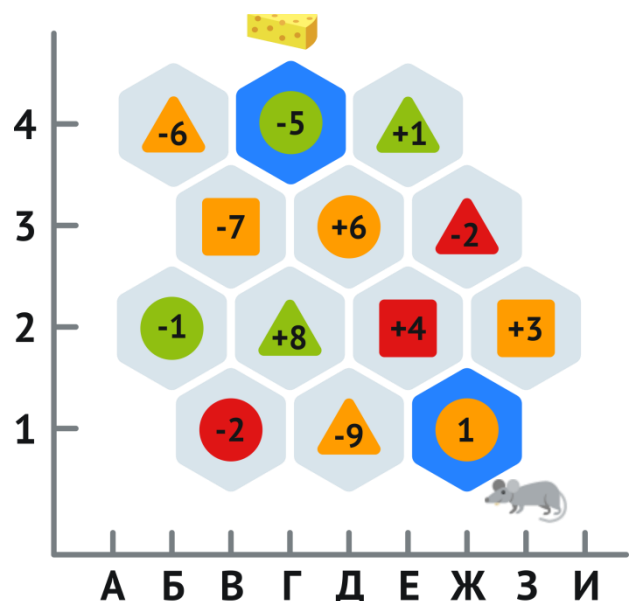
=     =   
 =     =

|   |   |    |   |   |
|---|---|----|---|---|
|   |   |    |   | 9 |
|   |   |    |   | 9 |
|   |   |    |   | 5 |
|   |   |    |   | 8 |
| 8 | 9 | 10 | 4 |   |

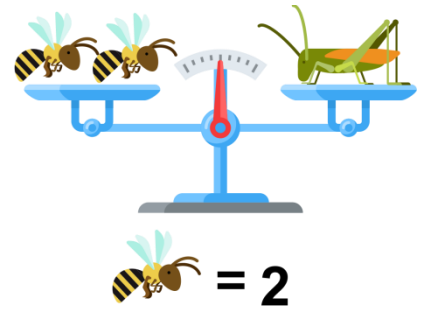
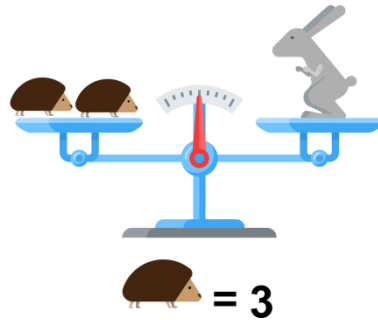
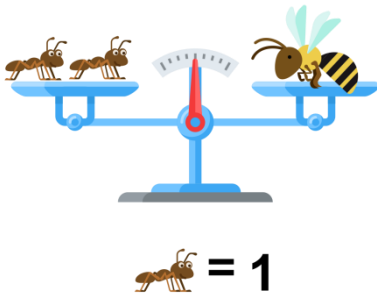
Задача «Мышка»

Мышка может передвигаться по одинаковым фигурам или по фигурам одинакового цвета. Помоги мышке добраться до сыра. Передвигайся по сотам и считай.

Твой ответ:



### Сколько весит, если?



### Задача «Посчитай по алгоритму»

НАЧАЛО

5 1\* 3 4 8 2 6 9 5 7

Запиши число со звездочкой

Отсчитай 7 клеток вправо и сложи числа

Отсчитай 5 клеток влево и отними от суммы число

Отсчитай 6 клеток вправо и к разности прибавь число

Запиши ответ

КОНЕЦ



Твой ответ:

Смотрите [больше задач по математике для первоклассников](#) на нашем сайте.